

ЧИСЛО 1

1

Рисовал я единицу!
Получилась — ну и ну!
Настоящая ракета
Для полёта на Луну.
Как стрела, помчусь я в небе,
Где ни разу до меня
Ни один мальчишка не был.
Самый первый буду я!



В. Данько



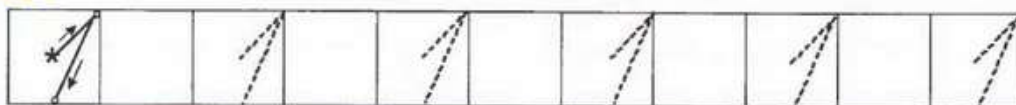
? На какой из этих предметов похожа цифра 1?



✏ Подпиши цифрой 1 предметы, которых по одному.



Число один записывают цифрой 1.




ЧИСЛО 2


2

Два на лебедя похожа:
Шейка есть и хвостик тоже.
Лебедь может подсказать,
Как нам цифру два узнать.



 Дорисуй предметы так, чтобы на каждой картинке их стало два.

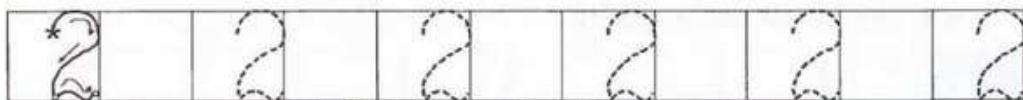


 Реши задачу. Запиши, сколько щенят.

На крыльце сидит щенок,
Греет свой пушистый бок.
Прибежал ещё один
И уселся рядом с ним.
Кто ответит из ребят,
Сколько стало всех щенят?




Число два записывают цифрой 2.




ЧИСЛО 3

3

На столе банан лежит —
Мы ещё положим.
Получилась цифра три!
Посмотри — похоже?



 Герои каких сказок встретились на этой картинке? Найди ещё предметы, которых здесь по три. Докрась их.



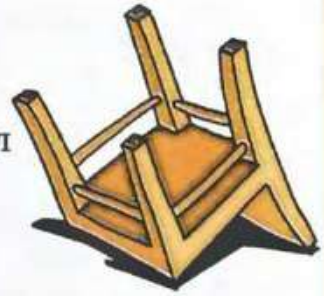
Число три записывают цифрой 3.



ЧИСЛО 4

4

Гляди, четыре — это стул
Который я перевернул.
Г. Виеру




Ответь на вопросы.

У бабушки Даши
Внучка Маша,
Кот Пушок,
Собака Дружок,
Сколько всего?



❓ Сколько клубничек у Маши в руках? Сможет ли она всех угостить? Что останется Маше? Как получить четыре клубнички? Раскрась их.



Число четыре записывают цифрой 4.



5

А потом пошла плясать
По бумаге цифра пять.
Руку вправо протянула,
Ножку круто изогнула.


С. Маршак




? Найди на картинке предметы, которых по 1, 2, 3, 4, 5.



? Раскрась 5 одинаковых мячиков одним цветом.



😊 Число пять записывают цифрой 5.



ЧИСЛО 6

6

На заборе у калитки
Примостилась цифра
шесть:

Как у маленькой улитки,
Завиток и рожки есть.


Н. Владимирова




 Раскрась картинку и сосчитай кольца.


Жонглёр бросает кольца,
Ну что за молодец!
Ни разу не собьётся,
Хоть множество колец!
Они, в глазах мелькая,
Взлетают высоко,
А мы их сосчитаем,
Хоть это нелегко.



 Сосчитай, сколько орехов запасла белочка. Как сделать, чтобы их стало шесть? На сколько шесть больше пяти? Раскрась орехи.



Число шесть записывают цифрой 6.




7

Солнце жарко припекает.
Цапля крылья расправляет.
А расправит их совсем,
Превратится в цифру семь!

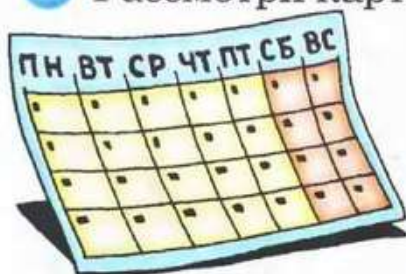
Н. Владимирова




 Раскрась чашки красным карандашом, а блюда — жёлтым. Сколько на картинке чашек? (7.) Сколько блюдец? (6.) Чего больше и на сколько?



 ? Рассмотрй картинки и скажи, что у нас по семь?



Число семь записывают цифрой 7.




ЧИСЛО 8

8


К этой цифре ты привык.
Это цифра — снеговик.
Лишь зима сменяет осень,
Дети лепят цифру восемь!
Только к цифре ты, дружок
Третий не лепи кружок.

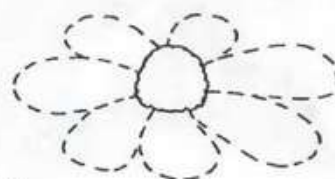

В. Бакалдина



 Соедини точки в порядке увеличения чисел и ты узнаешь, что ищет Карлсон.



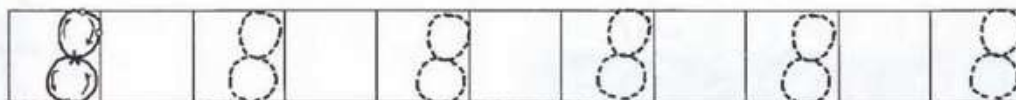
 Дорисуй первой ромашке 8 лепестков, а второй — 7. Что больше, семь или восемь? Сколько нужно отнять у 8, чтобы получилось 7?



$$8 - 1 = 7$$



Число восемь записывают цифрой 8.



ЧИСЛО 9

9


Один заметил:
«Ноль с хвостом».


Другой:
«С хвостом,
То будет кошка».


А третий
Помолчал немножко

В. Дагларджа



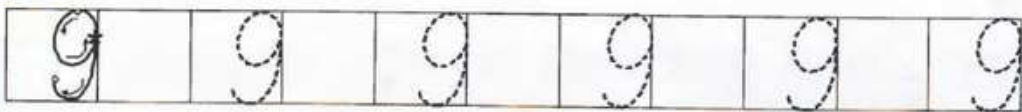
 В каждом ряду раскрась столько предметов, сколько обозначено цифрой.



 Какие цифры пропущены? Допиши их.

1 2 . 4 5 . 7 . 9

 Число девять записывают цифрой 9.

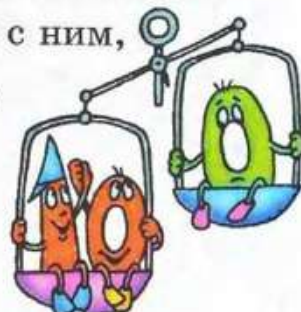


10

Цифра вроде буквы О —
Это ноль, иль ничего...

Если ж слева, рядом с ним,
Единицу примостим,

Он побольше станет весить,
Потому что это — десять.



? Реши задачу. Сосчитай всех пчёл. Закрой одну пальчиком. Сколько их стало? (9.) На сколько 9 меньше 10? На сколько 10 больше 9?

- Что там за дерево?
- Дуб-великан.
- Что там в дупле его?
- Меду стакан.

Мишка в дупло
заберётся едва ли:
Храбрые стражи
на мишку • напали
И не позволят ему
куролесить.

Кто они?

- Пчёлы.
- Сколько их?
- ...



Число десять записывают цифрами 1 и 0.

